


الأب أو الولي	الإدارة	الملاحظة
		10

الاسم:

المستوى: الثالث ابتدائي

1- اعط اسم كل مكون من مكونات بذرة الفاصوليا:



.....
.....
.....

3

2- أتمم بما يناسب:

• بعد أيام من الزرع تنبت البذرة، ويخرج في البداية، ثم

2

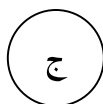
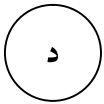



و ، و ينقص حجم فتدبل.

• تنتشر بذور الياسمين و الدردار و الزيزفون بواسطة ، و بذرة الغافت

2

عبر التصاقها بـ

3- رتب الرسوم التالية حسب مراحل الإنبات، بوضع الحرف المناسب أمام كل رقم:



3

4

3

2

1