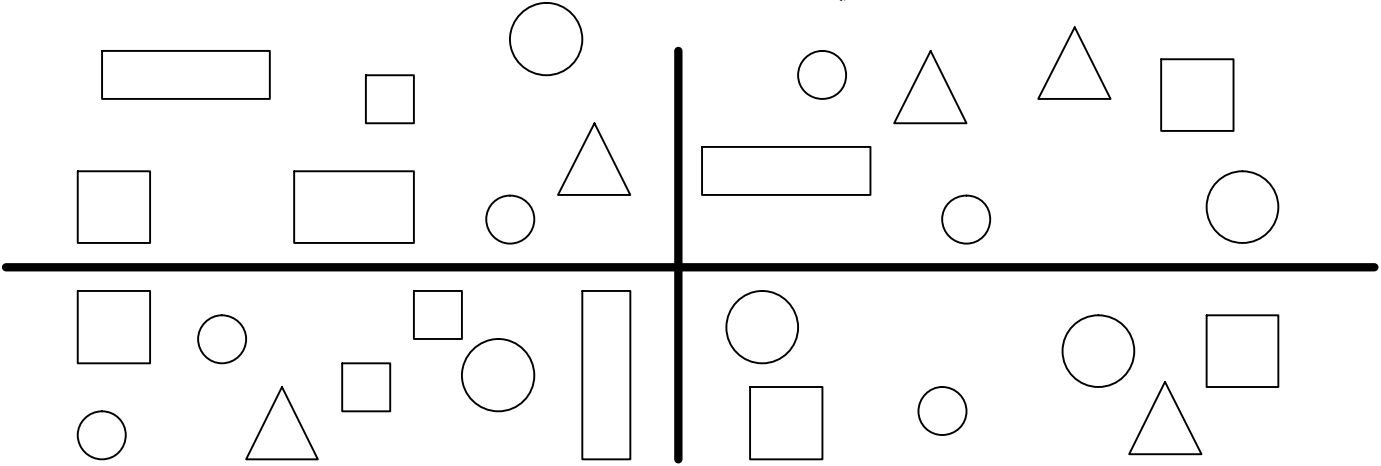


الملاحظة	الإدارة	الأب أو الولي
10		

الاسم: .....  
المستوى: الثاني ابتدائي (1h)


- تمييز مفاهيم تنظيم الفضاء.
- كتابة أعداد محصورة بين 0 و 99 بالأرقام و بالحروف، كتابة جمعية.
- قراءة الساعة.
- مقارنة أعداد محصورة بين 0 و 99 باستعمال الرموز (<، >، =)
- تمييز الوحدات و العشرات في عدد معلوم.

1- ألون الأقرص الموجودة عن اليمين و في الأعلى:



2

2- أكتب الساعة بالحروف:



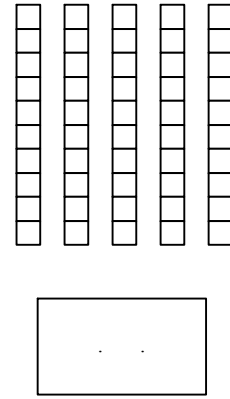
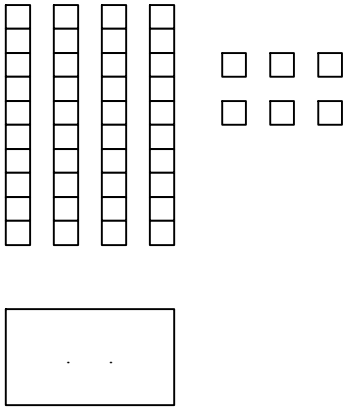
1

3- أكمل الجدول:

..... + .....	سبعة و ثلاثون	.....
..... + .....	.....	25
40 + 3	.....	.....

1.5

4- اكتب بالأرقام العدد الممثل بالقضبان و المربعات:



5- اكتب بالأرقام:

\* 4 وحدات و 7 عشرات هي: .....

\* 8 عشرات هي: .....

6- أضع الرمز المناسب ( < أو > أو = ) مكان النقط:

$$9 \dots\dots 5$$

$$96 \dots\dots 15$$

$$28 \dots\dots 82$$

$$30 + 2 \dots\dots 32$$

7- أستعمل البطاقات

5

2

4

و أكتب الأعداد المكونة من رقمين:

1

1

2

1.5