



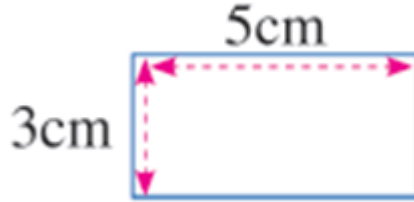
# محيط المربع والمستطيل والمثلث

4 ابتدائي

مرحلة التدريس عن بعد

## الرياضيات

1 أعدد بوضع علامة (x) تحت الصيغة التي تمكنني من حساب محيط هذا المستطيل .




$5 \text{ cm} + 3 \text{ cm}$

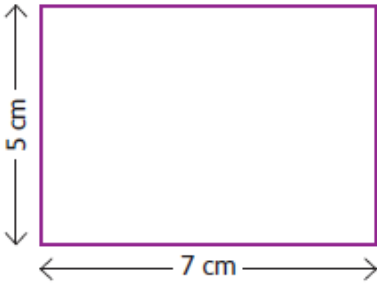
$(5 \text{ cm} + 3 \text{ cm}) \times 2$

$5 \text{ cm} \times 2$

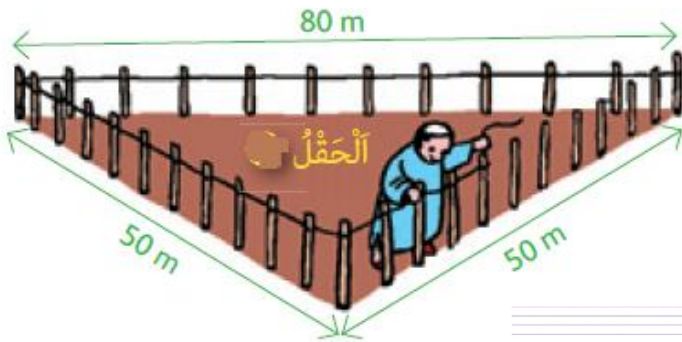
4 cm



2 أحسب محيط المربع التالي.



3 أحسب محيط هذا المستطيل



4 يريد هذا الفلاح إحاطة حقله بسك حديدي.

احسب طول هذا السلك.