

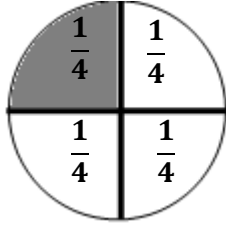


أنشطة التقويم

3 ابتدائي

مؤسسة السلام الدراسية
مادة الرياضيات

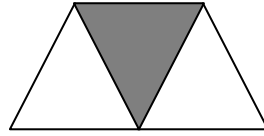
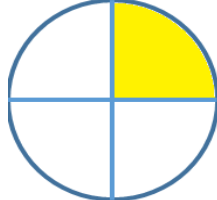

لأنسى



تم تقسيم هذه البيتزا إلى 4 أجزاء متساوية.

كل جزء منها يمثل الربع ونكتب : $\frac{1}{4}$


1 أضع علامة (x) الجزء الملون الذي يمثل $\frac{1}{3}$ من كل شكل . (الشكل يمثل الوحدة في كل حالة)



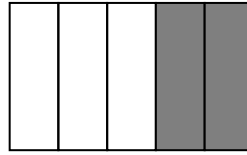
2 أكتب الأعداد الكسرية التي تمثلها الأجزاء الملونة من كل شكل.



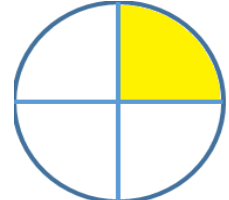
$\frac{\quad}{\quad}$



$\frac{\quad}{\quad}$

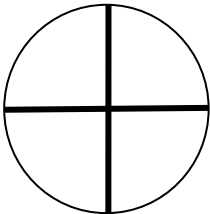


$\frac{\quad}{\quad}$



$\frac{\quad}{\quad}$


3 ألون الأجزاء التي يمثلها العدد الكسري في كل شكل.



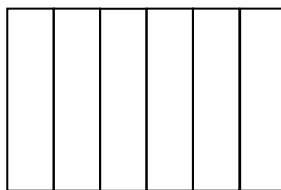
$\frac{2}{4}$



$\frac{4}{7}$



$\frac{2}{3}$



$\frac{5}{6}$



