

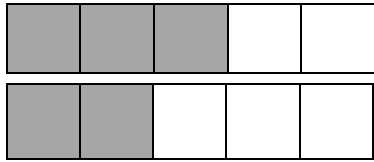


أنشطة التقويم
الأعداد الكسرية مقارنة وترتيب
الثالثة ابتدائي

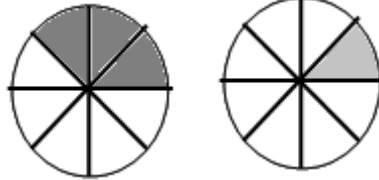


مرحلة التدريس عن بعد
مادة: الرياضيات

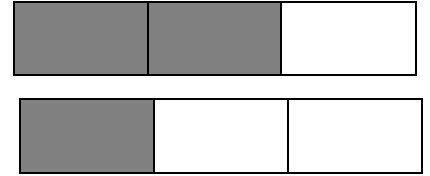
1 أقارن كل عددين كسريين بوضع الرمز المناسب : < أو >



$$\frac{3}{5} \dots \frac{2}{5}$$



$$\frac{3}{8} \dots \frac{1}{8}$$

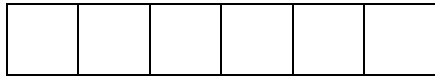


$$\frac{1}{3} \dots \frac{2}{3}$$

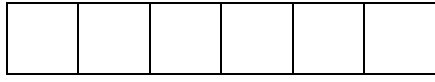
2 ألون الأشرطة ثم أرتب الأعداد الكسرية من الأصغر إلى الأكبر .



$$\frac{2}{6}$$




$$\frac{5}{6}$$



$$\frac{3}{6}$$



3 اقتسم 3 أصدقاء كعكة.



أخذ علي $\frac{5}{8}$ من الكعكة.

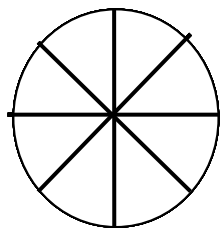
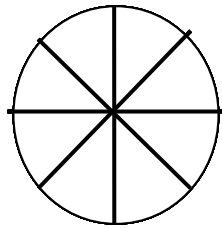
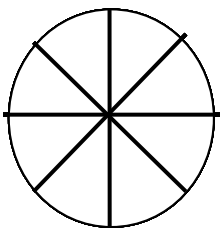
وأخذت مريم $\frac{1}{8}$ من الكعكة.

وأخذ محمد $\frac{2}{8}$ من الكعكة.

محمد

مريم

علي



أ- ألون نصيب كل طفل

ب- أحدد اسم الذي أخذ أكبر نصيب.

ج- أحدد اسم الذي أخذ أصغر نصيب.