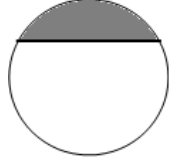


$\frac{1}{2}$

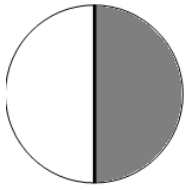
أحيط بخط الشكل الذي يمثل جزؤه الملون النصف أي



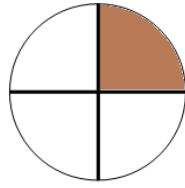
1

ألاحظ الأجزاء الملونة من كل شكل وأكتب العدد الكسري المناسب.


2




.....
—————
.....



.....
—————
.....



.....
—————
.....



$\frac{1}{5}$

أكتب العدد الكسري المناسب للأجزاء الملونة في كل شريط أو قرص من الأشربة التالية.

3



$\frac{2}{5}$

عدد الأجزاء الملونة

العدد الكلي للأجزاء



.....
—————
.....



.....
—————
.....




.....
—————
.....



المستطيل جانبه يمثل لوحة شوكولاتة. اقتسم 3 أطفال هذه اللوحة من الشوكولاتة في ما بينهم.

4

لوحة الشوكولاتة



أ- ألون الجزء الذي يمثل نصيب كل طفل.

اكتب العدد الكسري الذي يمثل هذا النصيب.

.....