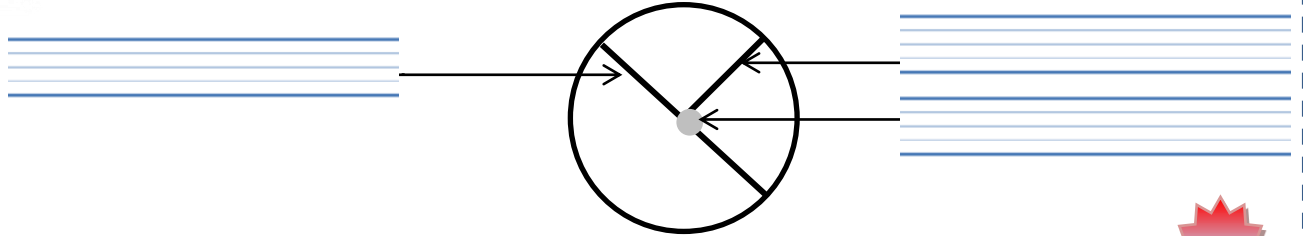


الدائرة والقرص




أكتب الاسم المناسب أمام كل سهم.
شعاع - مركز - قطر

1



أ- أرسم دائرة مركزها النقطة A وتمر من النقطة B
ب- أرسم قرصا مركزه النقطة E وشعاعه 3 cm

3



E

B

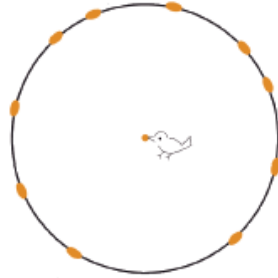
A

ألاحظ وأتمم بوضع علامة (x).

2

أ- تقع حبات القمح على نفس البعد من رأس منقار الطائر : نَعَمْ

لا




ب- كم حبة قمح يمكنني رسمها على نفس البعد؟

أكثر من 20 حبة

20 حبة

10 حبات



أكتب الوحدة المناسبة مكان النقط.

4

$$\begin{array}{rcl}
 9 \text{ dl } 40 \text{ ml} & = & 94 \text{ — } = 940 \text{ — } \\
 3 \text{ l } 50 \text{ dl} & = & 350 \text{ — } = 35 \text{ — } \\
 6 \text{ dl } 80 \text{ ml} & = & 68 \text{ — } = 680 \text{ — } \\
 250 \text{ dl} & = & 25 \text{ — } = 2500 \text{ — }
 \end{array}$$

