



أنشطة تقويمية

الثالثة ابتدائي

نحو التناسبية : العلاقات العددية

أكتب العدد المناسب.

1

$12 + \dots = 30$

$9 + \dots = 17$

$25 + \dots = 100$

$\dots + 34 = 50$

$\dots \times 7 = 42$

$\dots \times 5 = 50$

$\dots \times \dots = 72$

$\dots \times 8 = 32$



قرأت مريم 28 صفحة من كتاب عدد صفحاته 120.

2

أضع علامة (X) تحت العملية التي ستستعملها مريم لحساب عدد الصفحات المتبقية لقراءة الكتاب

$120 + 28 =$

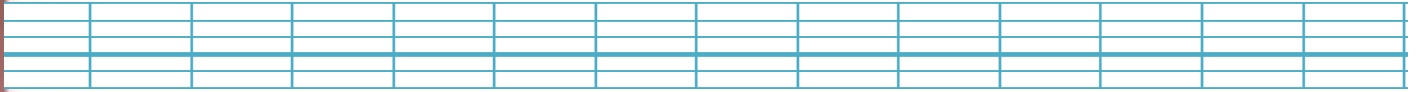
$120 \div 28 = \dots$

$120 - 28 = \dots$

$\dots - 28 = 120$

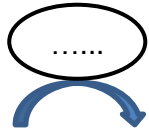


عدد الصفحات المتبقية للإتمام قراءة الكتاب هو :

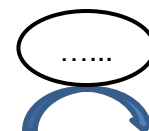


كيف يمكن الحصول على أعداد العمود B انطلاقاً من العمود A في كل وضعية.

3



A	B
2	18
10	90
3	27
5	45
4	36



A	B
10	14
4	8
20	24
8	12
23	27



ألاحظ وأكمل ملء كل جدول.

4

أضيف 6 إلى

10	16
4
20
8
23

أطرح 5 من

7
12	7
20
17
31

أضرب 6

5
3
4	24
10
7

أقسم على 2

8	4
20
12
26
42

