


# أنشطة تطبيقية

3 ابتدائي

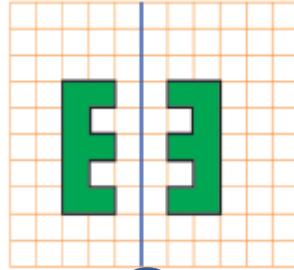
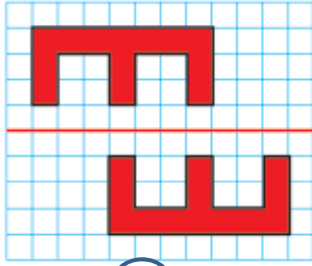
التمائل المحوري



الأسئلة:


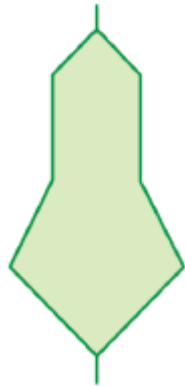
أضع علامة (X) تحت كل شكلين متماثلين .

1



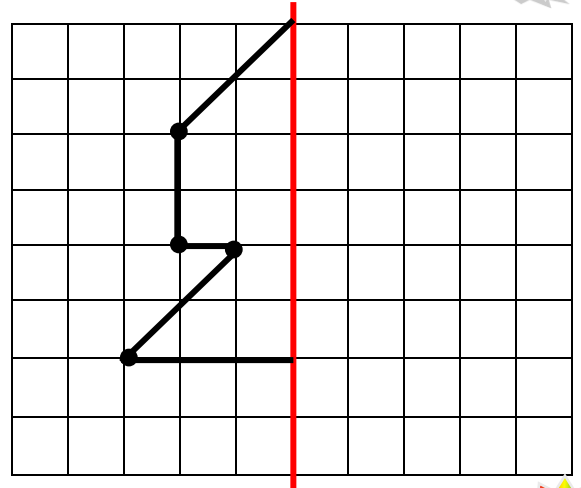
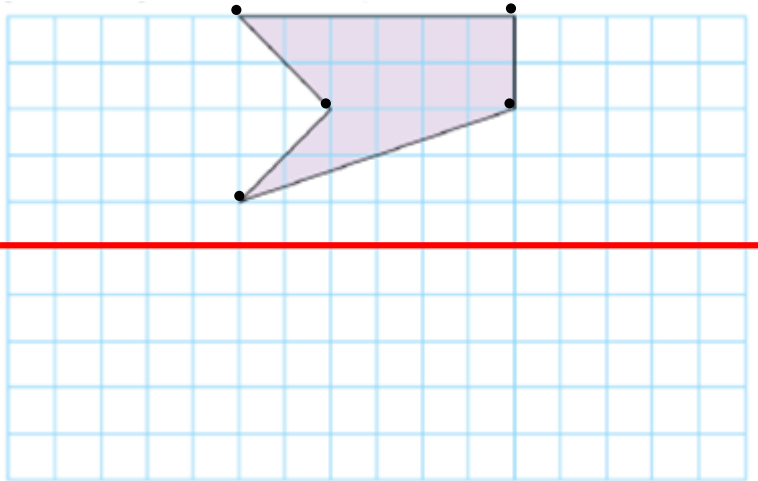
أرسم محور تماثل كل شكل.

2



أرسم ممائل الشكل بالنسبة للمحور

3



أضع وأنجز مايلي على الدفتر .

4

$$48 \div 8$$

$$72 \div 4$$

$$45 \div 3$$

$$47 \div 9$$

$$99 \div 9$$



أراد بستاني غرس 78 شجرة زيتون في 6 صفوف.

كم شجرة سيغرس في كل صف ؟

أنجز العملية على الدفتر ثم أتمم :



عدد الأشجار في كل صف هو .....

5