


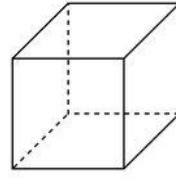


كلمة الجسميات

2 أحسب عدد المكعبات .

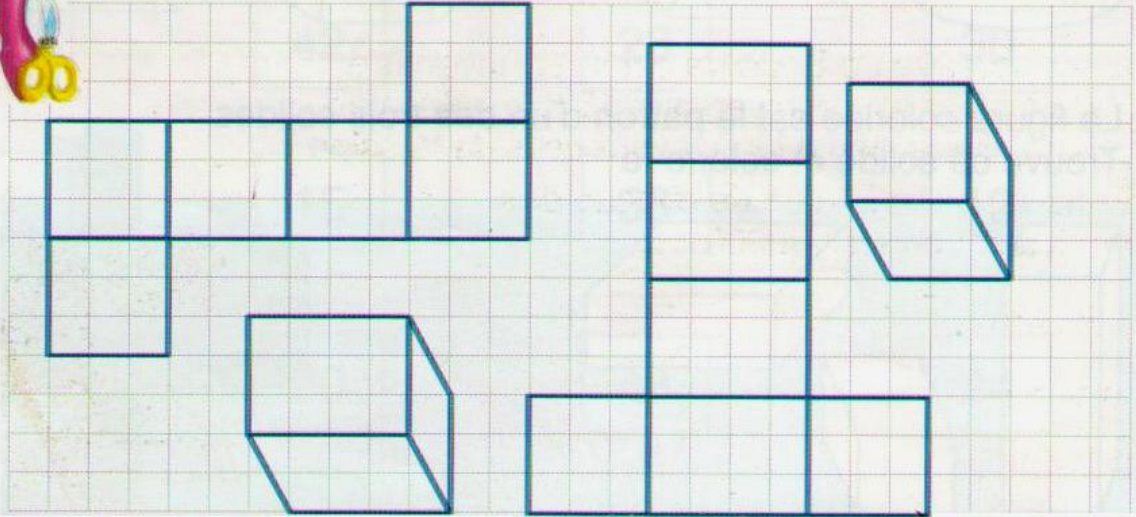


1 الأخط ثم أكل



- اسم الجسم:
- عدد رؤوسه:
- عدد وجوهه:
- عدد حرفه:

3 ألون بنفس اللون الجسم ونشره:



4 أحسب .



$8 \times 8 = \dots\dots$

$7 \times 4 = \dots\dots$

$5 \times 9 = \dots\dots$

$7 \times 20 = \dots\dots$

$3 \times 40 = \dots\dots$

$9 \times 30 = \dots\dots$

5 أضع وأنجز ميلي.

235×27

43×32

612×15

209×26

