
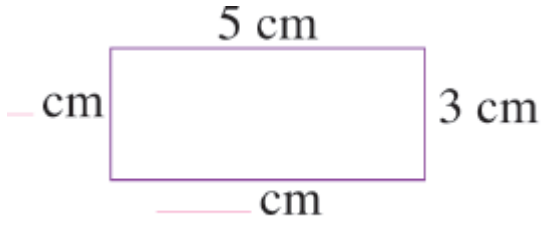


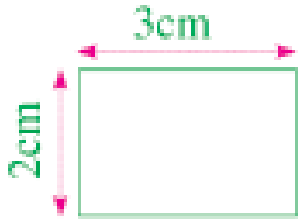
موسم: 2020 - 2019		أنشطة تقويمية	
الثالثة ابتدائي	المستوى	الرياضيات	
.....	التاريخ	الاسم الكامل.....	



1 أتم ملء الفراغ وأحسب محيط المستطيل

$$(\dots + \dots) \times 2 = \dots \times \dots = \dots \text{ cm}$$

2 أضع علامة (x) في بطاقة الجواب الصحيح.



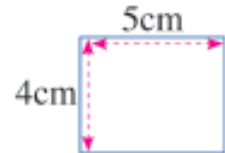
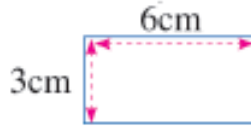
محيط المستطيل هو :

$2+3=5\text{cm}$

$2 \times 3 = 6\text{cm}$

$(2+3) \times 2 = 10\text{cm}$

3 أحسب محيط كل شكل من الأشكال التالية.



4 زرع فلاح قمحا في حقل مستطيل الشكل طوله 50 مترا وعرضه 30 مترا, أراد هذا الفلاح أن يحيط حقل

بسلك شائك حتى لا تجتاحه الأبقار والأغنام. غير أنه لم يعرف كم سيحتاج من متر من الأسلاك الشائكة

ليحيط بها الحقل؟



.....

