






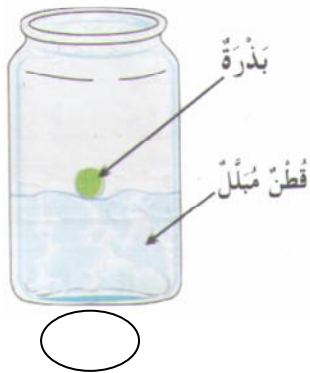


1/ ألاحظ بذرة فاصولياء مفتوحة و أملاً الفراغ بما يناسب :




توجد في البذرة و تغطيهما

2/ أضع علامة (x) تحت المناولة التي تثبت فيها البذور.



3/ أرتب مراحل نمو بذرة قمح بترقيمها من 1 إلى 4.

4/ أكتب الاسم المناسب أمام كل سهم : جذور - ساق - أوراق



5/ أجب بـ : صحيح أو خطأ

❖ تعطي البذور عند زرعها نباتات حية جديدة .

❖ تنتشر البذور بواسطة الرياح فقط .

❖ تنتشر البذور بواسطة الرياح أو الماء أو الحيوانات أو الإنسان.

16/ أ- ألاحظ الأجسام ثم أكتب ما يناسب داخل كل بطاقة.

حليب

ماء

مقص

دقيق

مسمار

ملح

أجسام صلبة

أجسام سائلة

.....

.....

.....

.....

.....

.....

ب- أكمل الجملة بالكلمة المناسبة : متراص - غير متراص

للدقيق جسم صلب.....

للحجر جسم صلب.....

17/ ألاحظ و أكمل الجملة بما يناسب.



ألاحظ ان الحليب.....

1.5

3

0,5

0,75