

الاسم الكامل

## 1 الأنشطة العددية :

1 - أكتب الأعداد بالأرقام و بالحروف :

خمس مئة و أربعون	.....	.....	.....
.....	107	ثلاثة و سبعون	47

2 - أقرن كل عددين بوضع أحد الرموز > أو < أو = :

120    102	35    35	38    75
------------	----------	----------

3 - أكمل بما يناسب :

العشرات	الوحدات

..... وحدات و ..... عشرات هي .....

العشرات	الوحدات

..... وحدات و ..... عشرات هي .....

4 - أكتب عدد البيضات التي أكلها الثعبان :

$12 - \cdot = 7$	$12 - 7 = \cdot$

5 - أتمم العمليات التالية بما يناسب :

	$4 + \cdot = \cdot$
--	---------------------

	$12 - \cdot = \cdot$
--	----------------------

	$2 \times \cdot = \cdot$
--	--------------------------

6- أنجز العمليات التالية :

$$\begin{array}{r} 364 \\ \times 5 \\ \hline \end{array}$$

$$\begin{array}{r} 765 \\ - 543 \\ \hline \end{array}$$

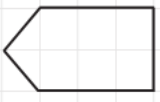
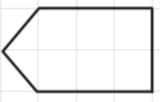
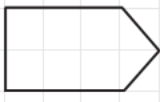
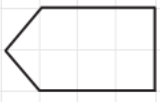
$$\begin{array}{r} 167 \\ + 312 \\ \hline \end{array}$$

## 2 الأنشطة الهندسية :





### 1 - ألاحظ الجدول و أكتب :


\* أكتب الرقم 7 في الخانة يمين الشجرة .  
\* أكتب الرقم 5 في الخانة يسار الشجرة .  
\* أكتب الرقم 1 في الخانة أسفل الشجرة .  
\* أكتب الرقم 9 في الخانة أعلى الشجرة .





### 2 - أضع (x) تحت الشكلين المتماثلين :

			
<input type="checkbox"/>	<input type="checkbox"/>	<input type="checkbox"/>	<input type="checkbox"/>

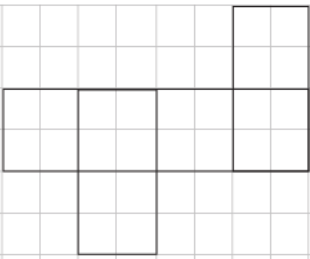

### 3 - أضع (x) تحت كل الزاوية القائمة :

			
<input type="checkbox"/>	<input type="checkbox"/>	<input type="checkbox"/>	<input type="checkbox"/>

### 4 - أتم رسم الأشكال الهندسية :

			
مربع	مثلث	مستطيل	مربع

### 5 - ماذا يمثل النشر التالي :

	
---	--

\* يمثل النشر التالي نشر ل .....

\* يمثل النشر التالي نشر ل .....

### 3 أنشئة القياس:

1 - أكتب و أرسم التوقيت الذي تشير اليه كل ساعة :



:



:



5 : 15



7 : 30

2 - أكتب أسماء الأوراق و القطع النقدية :



ورقة نقدية من فئة ..... درهما



ورقة نقدية من فئة ..... درهما



ورقة نقدية من فئة ..... درهما



قطعة نقدية من فئة ..... دراهم

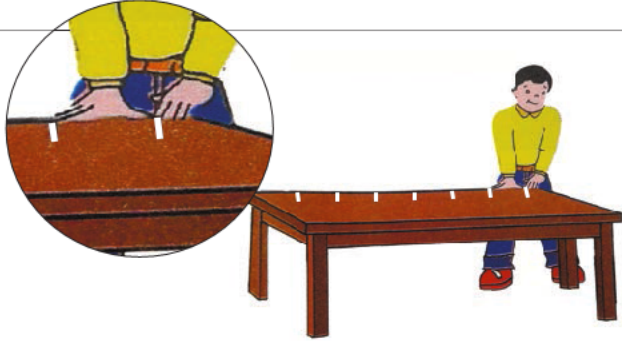


قطعة نقدية من فئة ..... درهم




قطعة نقدية من فئة ..... سنتيمات

3 - أحسب طول الطاولة :



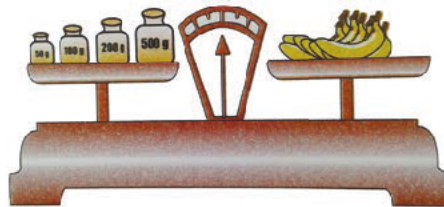

\* طول الطاولة ..... أشبار و ..... أصابع

4 - أحسب طول القلم :



\* طول القلم هو ..... سنتيمات

5 - أحسب كتلة الموز :



\* كتلة الموز هي ..... غرام