

تمارين داعمة

الاسم الكامل:

التاريخ:



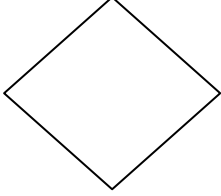
تاريخ الإرجاع:

إمضاء الأب أو الولي:

الملاحظة:

الثالثة ابتدائي

1- أكتب اسم كل شكل هندسي:



A


2- ضع وأنجز :

$$354 - 202$$

$$605 - 381$$

$$912 - 147$$

3- أرسم نقطة حمراء تنتمي إلى القرص:



B

4- أرسم دائرة مركزها النقطة o وتمر من النقطة A



B

5/ باستعمال البركار، أضع العنزتين داخل دائرة زرقاء كي لا يأكلهما الذئب، و أضع الخص داخل دائرة حمراء كي لا تأكلها العنزتين.



C