



أنشطة داعمة



الثاني ابتدائي

- الاسم الكامل:
..... التاريخ:
..... تاريخ الإرجاع:
إمضاء الأب أو الولي:
..... الملاحظة:

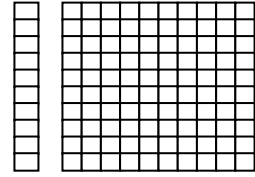

1- أكتب العدد الممثل:



□

وحدات	عشرات	مئات

وحدات	عشرات	مئات



وحدات	عشرات	مئات

2 - أكتب الأعداد بالأرقام والحروف:


..... :105

..... :200

... : مئة وثلاثة وعشرون

... : مئة واثنان وثلاثون



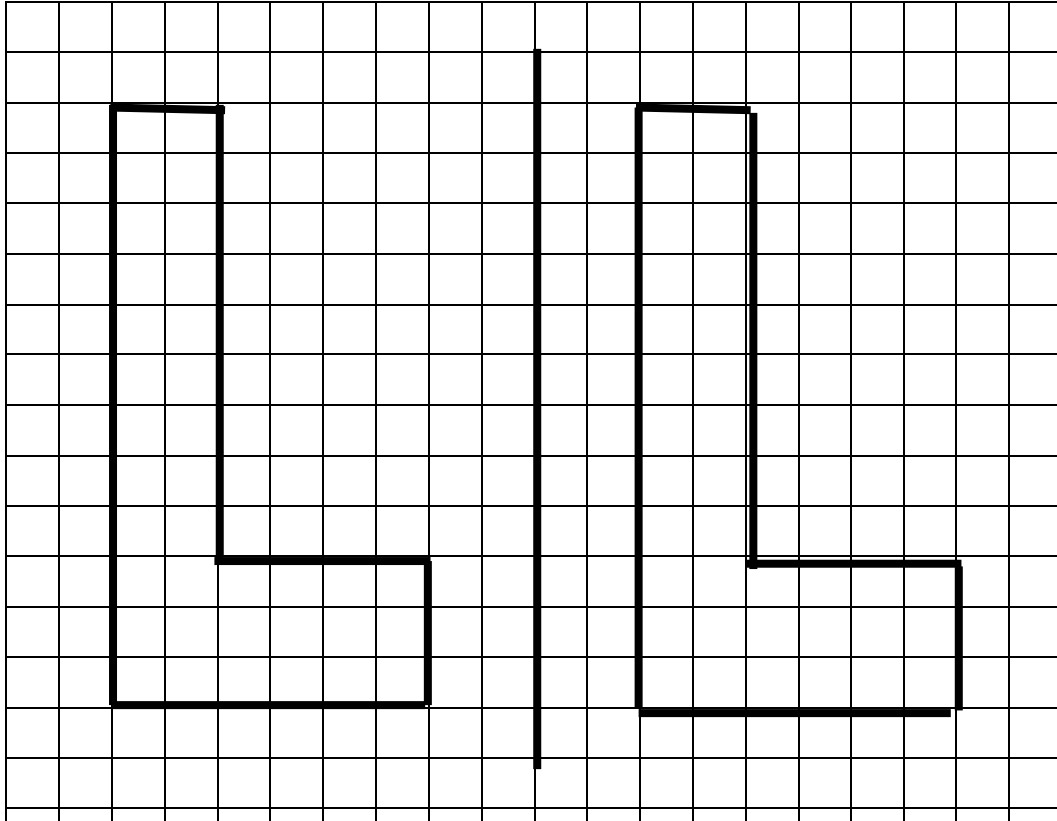


3- أكتب العدد المكون من :

5 وحدات و 4 عشرات و مئة : . . .

9 وحدات و مئة واحدة : . . .

4- ألون الجواب الصحيح:



الشكلان غير متماثلان

الشكلان متماثلان

