

الاسم الكامل: .....

التاريخ: .....

تاريخ الإرجاع: .....

إمضاء الأب أو الوالي: .....

الملاحظة: .....



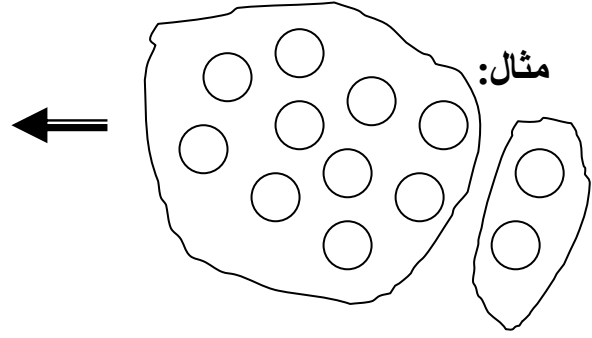
# أنشطة داعمة



## الأولى ابتدائي

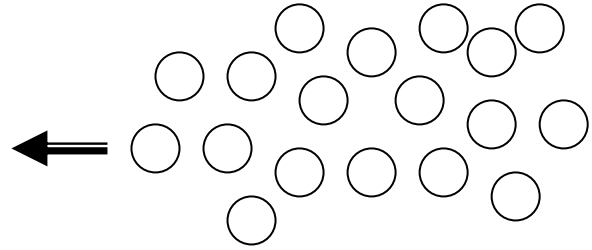
1- أجمع بعشرة وأملاً الجدول:

عشرات	وحدات
1	2



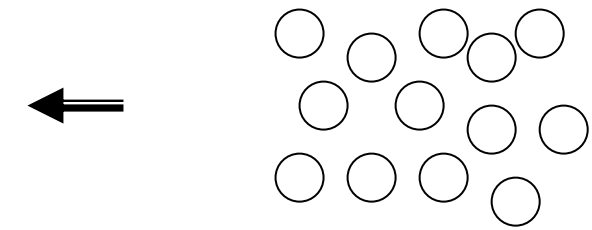
$$10 + 2$$

عشرات	وحدات
.	.



$$..... + ..... = .....$$

عشرات	وحدات
.	.



$$..... + ..... = .....$$

2- أحسب :

$$5 + 5 + 3 = .....$$

$$10 + 4 = .....$$

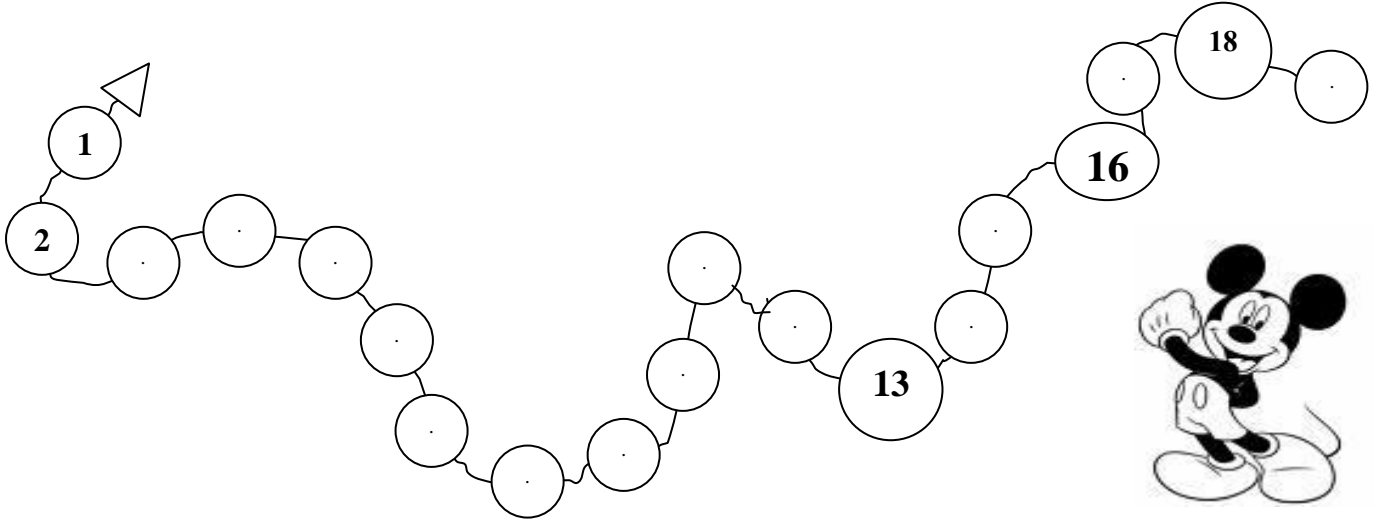
$$10 + 3 = .....$$

$$9 + 4 = .....$$

$$6 + 6 = .....$$

$$3 + 10 = .....$$

3- أ- الأخط وأكمل :



ب- أملأ الجدول:



العدد الذي بعده مباشرة	العدد	العدد الذي قبله مباشرة
11	10	9
.	8	.
..	13	..
.	18	..

4- أشطب أو أكل للحصول على 10 عناصر:

