



DEFI MATHÉMATIQUES ANNÉE 2023-2024 « SEMAINE N° 3 »
Exercices d'Entraînement – Niveau : 2AC

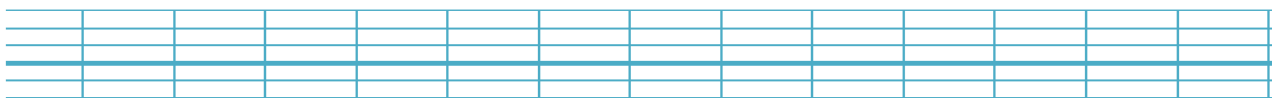
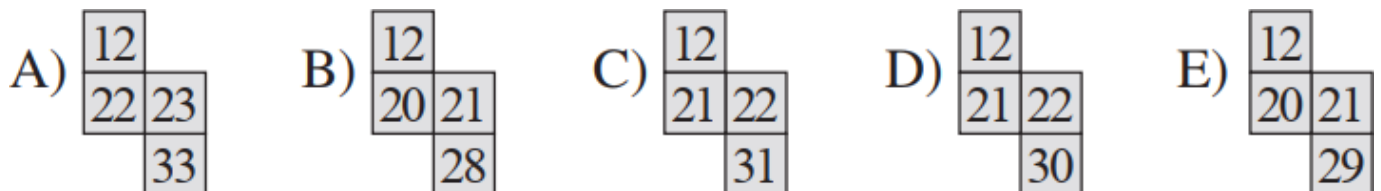
1^{er} Défi

التحدي الأول

Jalal a fini de remplir le rectangle avec les nombres entiers dans l'ordre jusqu'à 40.

1	2	3	4	5	6	7	8
9	10	11	12				

Laquelle des pièces ci-dessous peut alors être découpée dans le rectangle ?



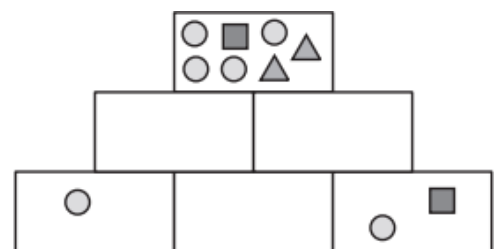
2^{ème} Défi

التحدي الثاني

Taoufik a dessiné des figures dans les six cases d'une pyramide.

Chaque case contient exactement

toutes les figures des deux cases en-dessous d'elle. On ne voit que le contenu de trois des cases.



Qu'avait dessiné Taoufik dans la case en bas au milieu?

