

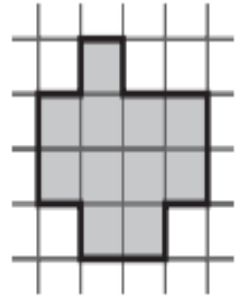
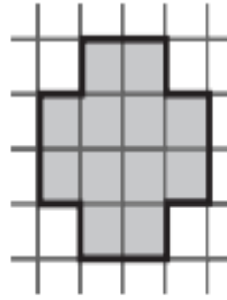





تحدي الرياضيات - الموسم الدراسي 2023-2024 - "الأسبوع رقم 18"  
تمارين التدريب - المستوى: الأول ابتدائي

1<sup>er</sup> Défi

التحدي الأول

مَا هُوَ الشَّكْل الَّذِي يَحْتَوِي عَلَى أَكْبَرَ عَدَدٍ مِنَ المُرَبَّعَاتِ الرَّمَادِيَّةِ الصَّغِيرَةِ



2<sup>ème</sup> Défi

التحدي الثاني

أحيطُ بِخَطِّ الأَسْمَاكِ الَّتِي يُمَكِّنُ لِلصَّيَادِ أَنْ يَصْطَادَهَا:

