



تحدي الرياضيات - الموسم الدراسي 2023-2024 - "الأسبوع رقم 17"  
تمارين التدريب - المستوى: الثالث ابتدائي

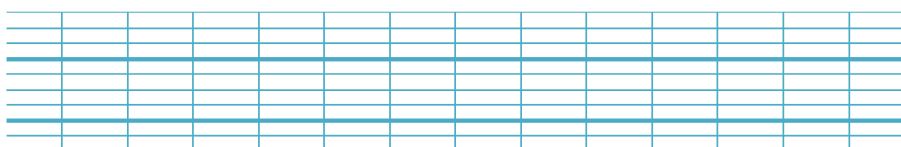
1<sup>er</sup> Défi

التحدي الأول

A la fête de l'école, Nada lance 4 balles sur la cible du chat.

Elle fait 19 points.

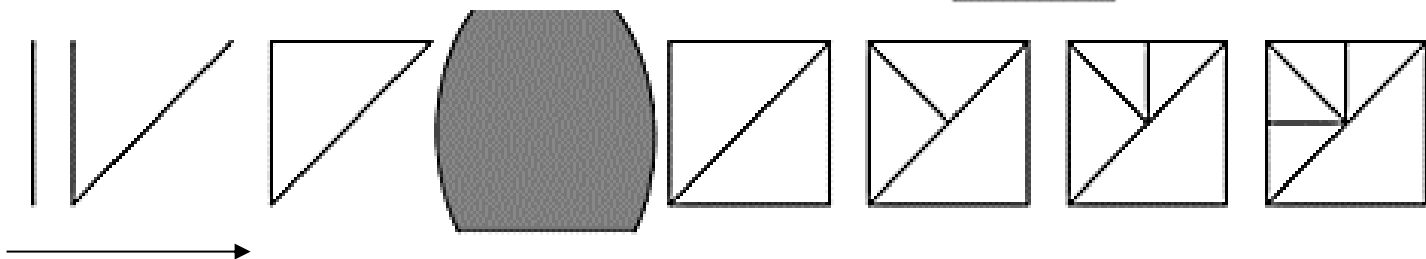
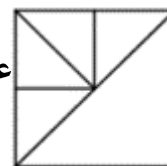
Quels nombres a-t-elle touchés ?




2<sup>ème</sup> Défi

التحدي الثاني

لقد تم إنشاء هذا الشكل عبر 8 مراحل مرتبة من اليسار إلى اليمين.



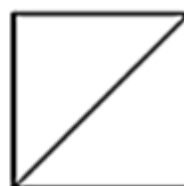
ما هي المرحلة التي تم إخفاؤها ؟



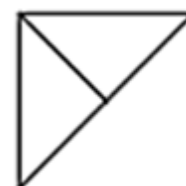
(د)



(ج)



(ب)



(أ)

