

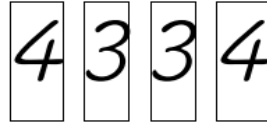


تحدي الرياضيات - الموسم الدراسي 2024-2023 - "الأسبوع رقم 15"  
تمارين التدريب - المستوى: الرابع ابتدائي

1<sup>er</sup> Défi

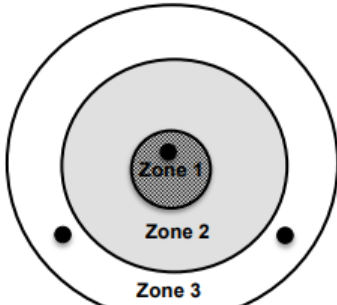
التحدي الأول

كيف يمكنك الحصول على العدد 40 باستعمال البطاقات أسفله؟

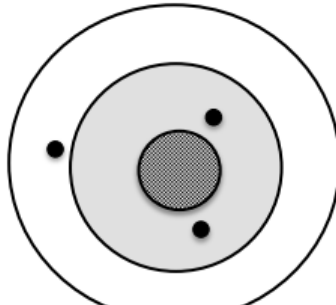



2<sup>ème</sup> Défi

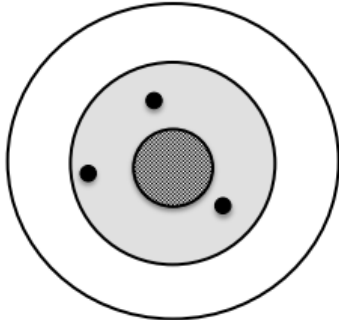
التحدي الثاني



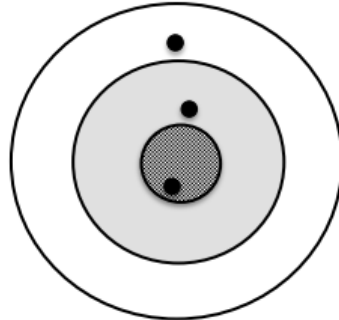
Cible 1 : 38 points



Cible 2 : 32 points



Cible 3 : 42 points



Cible 4 : ?

Chaque zone de la cible de tir à l'arc rapporte un nombre de points différents.

On calcule le score de chaque cible en ajoutant les points de 3 flèches marquées par un point noir.

**Quel est le score de la cible 4 ?**


### Aide possibles

Voici des schémas pour t'aider à trouver le nombre de points de chaque zone.

Cible 1

Flèche 1 : .....	Flèche 2 : .....	Flèche 3 : .....
---------------------	---------------------	---------------------

38

Cible 3

Flèche 1 : .....	Flèche 2 : .....	Flèche 3 : .....
---------------------	---------------------	---------------------

42

Cible 2

Flèche 1 : .....	Flèche 2 : .....	Flèche 3 : .....
---------------------	---------------------	---------------------

32

Cible 4

Flèche 1 : .....	Flèche 2 : .....	Flèche 3 : .....
---------------------	---------------------	---------------------

?