



Groupe Scolaire ESSALAM  
d'enseignement privé  
OUJDA

مجموعة السلام الدراسية  
للتعليم الخصوصي  
وجدة



تحدي الرياضيات - الموسم الدراسي 2023-2024 - "الأسبوع رقم 13"  
تمارين التدريب - المستوى: الرابع ابتدائي

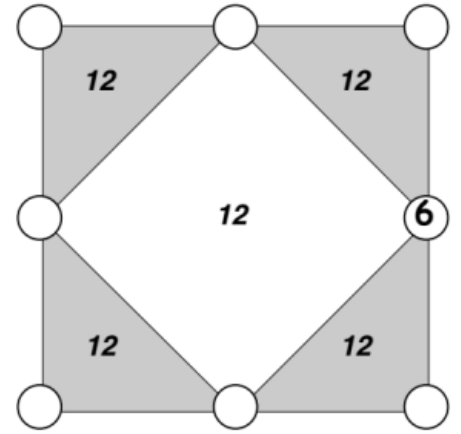
1<sup>er</sup> Défi

التحدي الأول

On place les nombres de 1 à 8 dans les huit bulles de ce dessin de telle sorte que la somme des bulles des sommets d'une zone quelconque (triangles ou carrée) soit égale à 12.

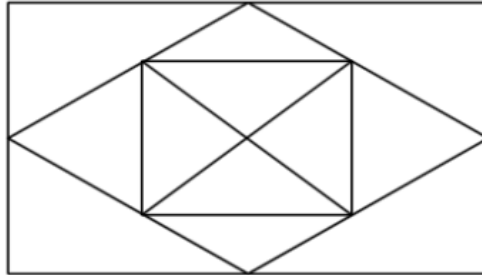
Le 6 est déjà inscrit.

Place les sept autres nombres.

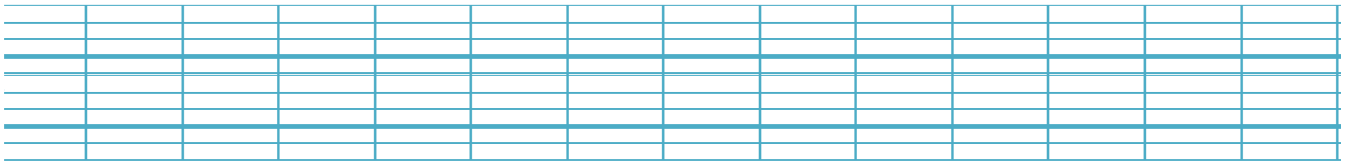


2<sup>ème</sup> Défi

التحدي الثاني



كم عدد المثلثات في الشكل التالي؟



للمساعدة

