



Groupe Scolaire ESSALAM  
d'enseignement privé  
OUJDA

مجموعة السلام الدراسية  
للتعليم الخصوصي  
وجدة

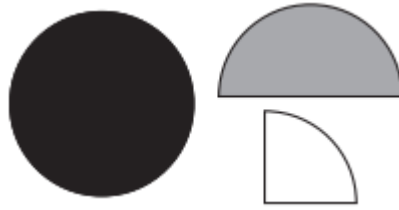


تحدي الرياضيات - الموسم الدراسي 2023-2024 - "الأُسبوع رقم 12"  
تمارين التدريب - المستوى: السادس ابتدائي

1<sup>er</sup> Défi

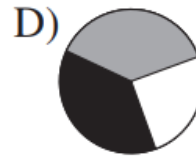
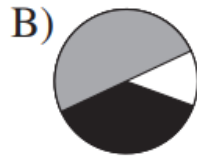
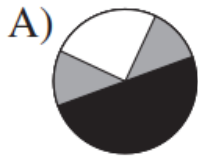
التحدي الأول

Ali a trois formes en papier : un disque noir, un demi-disque gris et un quart de disque blanc.



Il les pose les unes sur les autres. Il a pu réaliser 4 des 5 figures ci-dessous.

Quelle figure est impossible à réaliser ?

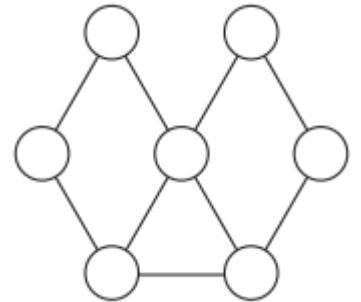


--	--	--	--	--	--	--	--	--	--	--	--	--	--	--	--	--	--	--	--	--

2<sup>ème</sup> Défi

التحدي الثاني

Adam veut colorier chacun des 7 disques dessinés.  
Il veut que deux disques, quand ils sont reliés par un trait, soient de couleurs différentes.



Combien de couleurs est-il obligé d'utiliser ?

- A  2      B  3      C  4      D  5      E  6