


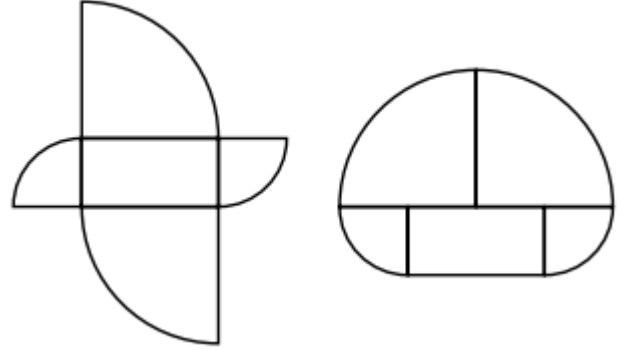


DEFI MATHÉMATIQUES ANNEE 2023-2024 « SEMAINE N° 10 »
Exercices d'Entraînement – Niveau : 3AC

1^{er} Défi

التحدي الأول

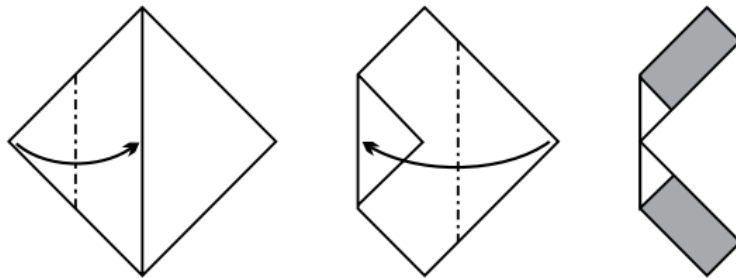
Les deux figures sont composées des cinq mêmes pièces. Le rectangle mesure 5 cm sur 10 cm et les autres pièces sont des quarts de disques de rayons 5 cm ou 10 cm. Quelle est la différence entre les périmètres de ces deux figures ?



2^{ème} Défi

التحدي الثاني

Un carré de papier, d'aire 64 cm^2 , est plié comme le montre la figure.



Quelle est la somme des aires des deux rectangles gris ?

