

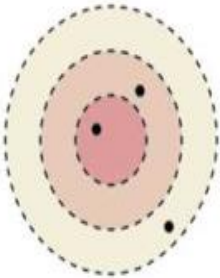


تحدي الرياضيات - الموسم الدراسي 2023-2024 - "الأسبوع رقم 1"
تمارين التدريب - المستوى: الخامس ابتدائي

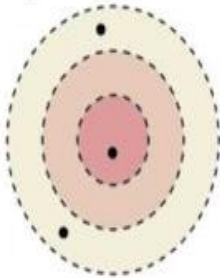
1^{er} Défi

التحدي الأول

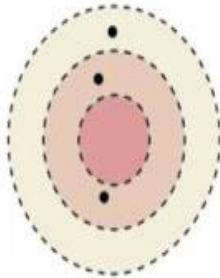
Quel est le score de la dernière cible ?



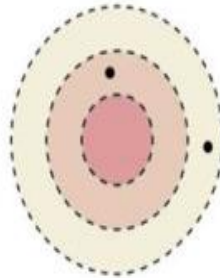
48 points



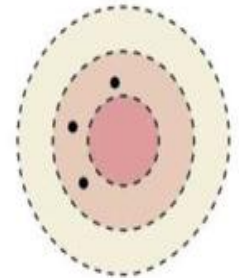
38 points



32 points



18 points



? points

2^{ème} Défi

التحدي الثاني

Une souris se trouve dans un labyrinthe où il y a 15 fromages. Quand elle entre dans une pièce, elle mange le fromage qui s'y trouve. Elle ne revient jamais dans une pièce où elle a mangé un fromage.

Quel trajet emprunte-t-elle pour manger tous les fromages et sortir du labyrinthe ?

