



Nom et prénom : Niveau : 2AC

Remarque : Vous gagnez 4 points pour chaque réponse correcte et 0 point pour chaque mauvaise réponse

1^{er} Défi

Dans cette multiplication, chaque lettre représente un chiffre différent.

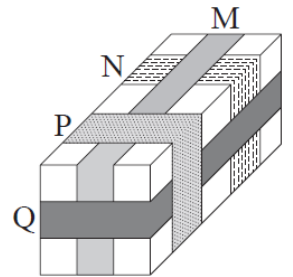
Quelle lettre représente le chiffre 8 ?

$$\begin{array}{r} 1\ ABCDE \\ \times \quad \quad 3 \\ \hline ABCDE\ 1 \end{array}$$

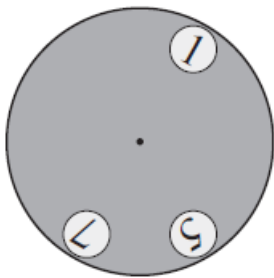
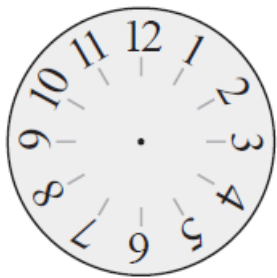
2^{ème} Défi

Le dessin montre un paquet entouré de quatre rubans désignés par M, N, P et Q.

Dans quel ordre ces rubans ont-ils été mis ?



3^{ème} Défi



Un disque gris troué a été placé sur une horloge (voir figure). Le disque peut tourner autour de son centre.

Parmi les listes ci-dessous, quelle est celle dont les nombres peuvent être vus en même temps ?

- A 4, 6 et 12 ; B 1, 5 et 10 ; C 2, 4 et 8 ;
D 3, 6 et 9 ; E 5, 9 et 12

