






















التحدي الثالث

يضع القنفذ في السلة كل فطر عليه مجموع يساوي 9.
 ضع علامة تحت كل فطر سيحصل عليه القنفذ.

| | | | |
|--|--|---|--|
|  1 + 6 <input type="checkbox"/> |  4 + 5 <input type="checkbox"/> |  7 + 1 <input type="checkbox"/> |  3 + 4 <input type="checkbox"/> |
|  7 + 2 <input type="checkbox"/> |  3 + 5 <input type="checkbox"/> |  6 + 3 <input type="checkbox"/> | |
|  5 + 4 <input type="checkbox"/> |  |  | |













التحدي الرابع

ما هي الأعداد التي تخفيها الحيوانات و علامة الاستفهام؟

| | | | | | | | |
|---|---|---|---|---|--|---|----------------------|
|  | + |  | = | 6 |  | = | <input type="text"/> |
|  | + |  | = | 4 |  | = | <input type="text"/> |
|  | + |  | = | 6 |  | = | <input type="text"/> |
|  | + |  | = | ? | ? | = | <input type="text"/> |

التحدي الخامس

تظهر كل فراشة مرة واحدة في كل سطر و في كل عمود.
 ضع كل صورة في الخانة المناسبة.

| | | | |
|---|---|---|---|
| |  |  |  |
|  |  |  |  |
|  |  |  | |
| |  | |  |

