

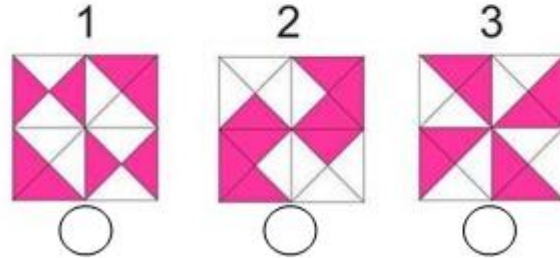
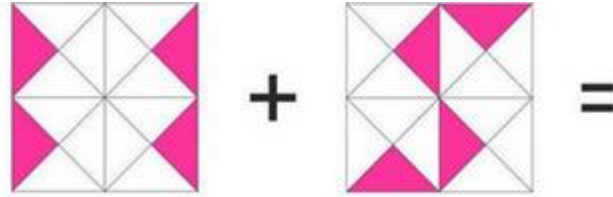


تحدي الرياضيات - الموسم الدراسي 2022-2023 - "الأسبوع رقم 3"  
تمارين التدريب - المستوى: الأول ابتدائي

1<sup>er</sup> Défi

التحدي الأول

ما هو الشكل الذي يمكن الحصول عليه؟















2<sup>ème</sup> Défi

التحدي الثاني

تظهر كل صورة مرة واحدة في كل سطر و في كل عمود.

املاً كل خانة بالصورة المناسبة.

	 3	 1	
 2	 1	 3	 4
 1	 2	 4	 3
	 4	 2	

