

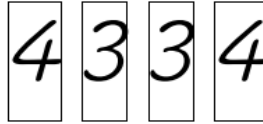


تحدي الرياضيات - الموسم الدراسي 2022-2023 - "الأسبوع رقم 22"
تمارين التدريب - المستوى: الرابع ابتدائي

1^{er} Défi

التحدي الأول

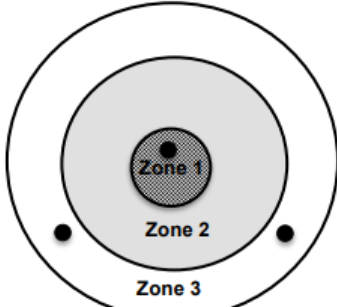
كيف يمكنك الحصول على العدد 40 باستعمال البطاقات أسفله؟



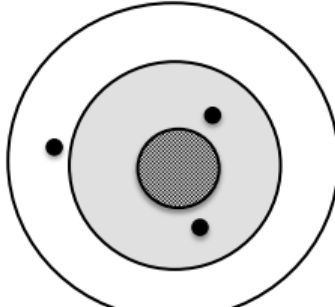
| | | | | | | | | | | | | | | | | | | | |
|--|--|--|--|--|--|--|--|--|--|--|--|--|--|--|--|--|--|--|--|
| | | | | | | | | | | | | | | | | | | | |
| | | | | | | | | | | | | | | | | | | | |
| | | | | | | | | | | | | | | | | | | | |

2^{ème} Défi

التحدي الثاني



Cible 1 : 38 points



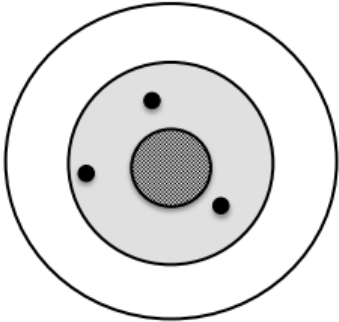
Cible 2 : 32 points

Chaque zone de la cible de tir à l'arc rapporte un nombre de points différents.

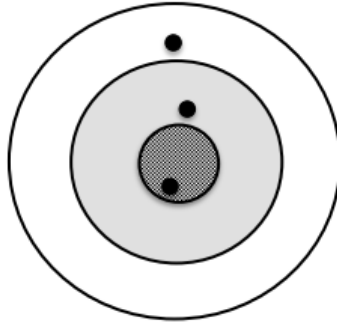
On calcule le score de chaque cible en ajoutant les points de 3 flèches marquées par un point noir.

Quel est le score de la cible 4 ?

| | | | | | | | | | | | | | | | | | | | |
|--|--|--|--|--|--|--|--|--|--|--|--|--|--|--|--|--|--|--|--|
| | | | | | | | | | | | | | | | | | | | |
| | | | | | | | | | | | | | | | | | | | |
| | | | | | | | | | | | | | | | | | | | |



Cible 3 : 42points



Cible 4 : ?

Aide possibles

Voici des schémas pour t'aider à trouver le nombre de points de chaque zone.

Cible 1

| | | |
|------------|------------|------------|
| Flèche 1 : | Flèche 2 : | Flèche 3 : |
| | | |

38

Cible 2

| | | |
|------------|------------|------------|
| Flèche 1 : | Flèche 2 : | Flèche 3 : |
| | | |

32

Cible 3

| | | |
|------------|------------|------------|
| Flèche 1 : | Flèche 2 : | Flèche 3 : |
| | | |

42

Cible 4

| | | |
|------------|------------|------------|
| Flèche 1 : | Flèche 2 : | Flèche 3 : |
| | | |

?