



Groupe Scolaire ESSALAM
d'enseignement privé
OUJDA

مجموعة السلام الدراسية
للتعليم الخصوصي
وجدة

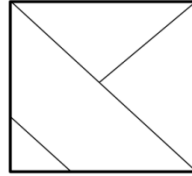


تحدي الرياضيات - الموسم الدراسي 2022-2023 - "الأسبوع رقم 11"
تمارين التدريب - المستوى: الأول ابتدائي

1^{er} Défi

التحدي الأول

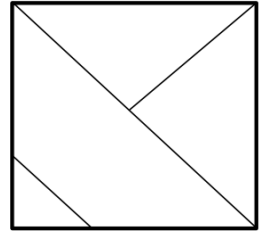
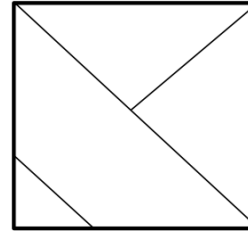
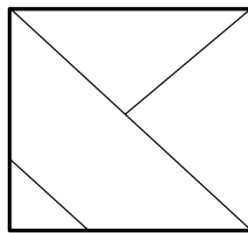
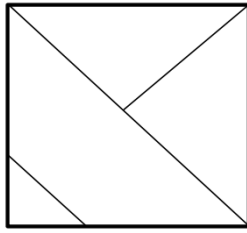
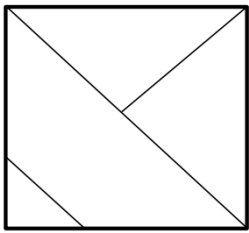
5 مثلثات.



يوجد في الشكل :



• لون مثلثا في كل شكل من الأشكال التالية.



2^{ème} Défi

التحدي الثاني

تقفز الضفدعة على شريط بـ 3 خانات كما هو مبين في الرسم.



ضع علامة (X) تحت أول شكل ستصل إليه الضفدعة .

