



Groupe Scolaire ESSALAM  
d'enseignement privé  
OUJDA

مجموعة السلام الدراسية  
للتعليم الخصوصي  
وجدة




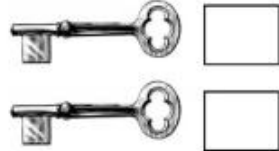

تحدي الرياضيات - الموسم الدراسي 2022-2023 - "الأسبوع رقم 1"  
تمارين التدريب - المستوى: الثاني ابتدائي

1<sup>er</sup> Défi

التحدي الأول

اكتب الأعداد التالية داخل البطاقات للحصول على العدد 100 :

25 72 10 28 75 90



2<sup>ème</sup> Défi

التحدي الثاني

ما هو الشكل الذي سنحصل عليه عندما نصل المجاميع من الأصغر إلى الأكبر ؟

5+6 ● ● 4+8  
7+6 ● ● 6+9  
8+8 ● ● 9+9

