




مجموع النقاط:

الجولة الثانية من تحدي الرياضيات - الموسم الدراسي 2022-2023
- المستوى: الأول ابتدائي

الاسم العائلي والشخصي:

ملاحظة: تحصلون على 4 نقاط في كل مرة تكون إجابتم على التحدي صحيحة، وعلى 0 نقطة في حالة الإجابة الخاطئة

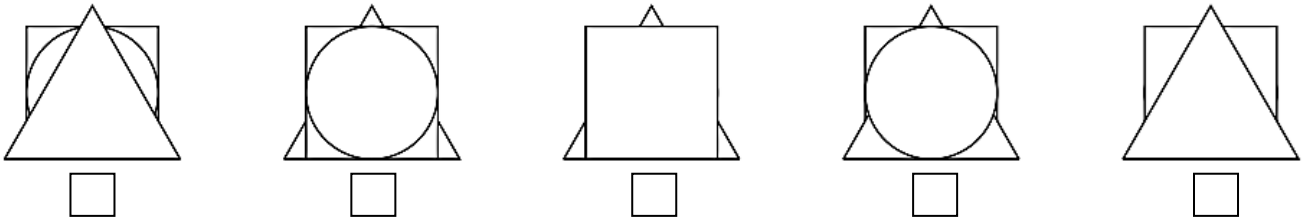
التحدي الأول



ما هي الزهرة التي ستصل إليها الفراشة؟

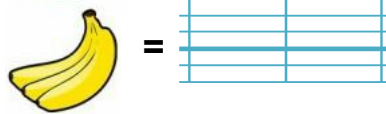
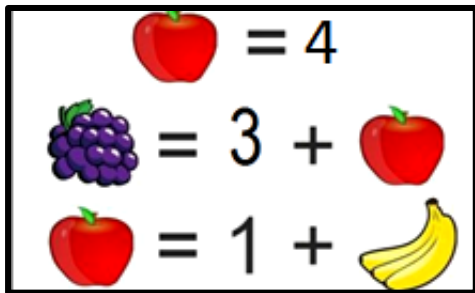
التحدي الثاني

ما هي الأشكال التي يوجد فيها المثلث وراء المربع؟



التحدي الثالث

أوجد العدد الذي تمثله كل فاكهة .



التحدي الرابع

تدخل الشبكة كل كرة عليها مجموع يساوي 7.

ما هي الكرات المناسبة ؟

5+4 4+3

7+0 6+2

1+6 2+5 3+3

التحدي الخامس

تظهر صورة كل حيوان مرة واحدة في كل سطر و في كل عمود.

املاً كل خانة بالصورة المناسبة.

