



Groupe Scolaire ESSALAM  
d'enseignement privé  
OUJDA

مجموعة السلام الدراسية  
للتعليم الخصوصي  
وجدة



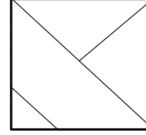
تحدي الرياضيات - الموسم الدراسي 2021-2022 - "الأسبوع رقم 6"  
تمارين التدريب - المستوى: الأول ابتدائي

1<sup>er</sup> Défi

التحدي الأول

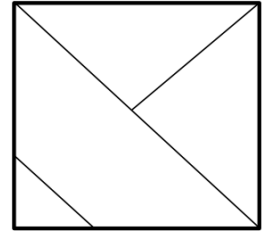
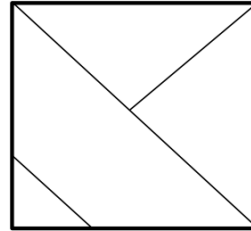
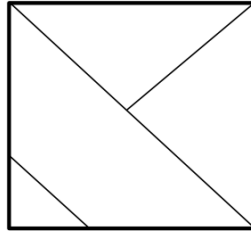
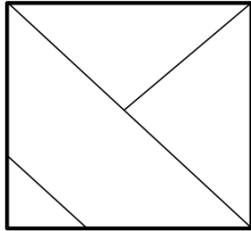
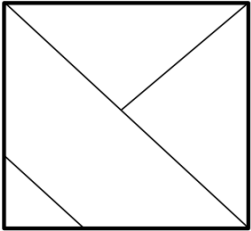


5 مثلثات



يوجد في الشكل :

• لون مثلثا في كل شكل من الأشكال التالية.



2<sup>ème</sup> Défi

التحدي الثاني



لاحظ و ارسم الأشكال المناسبة على اللوحة السادسة.

