


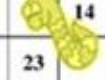








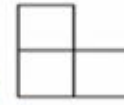
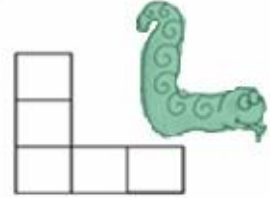
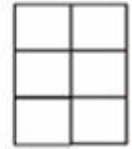
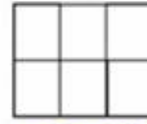
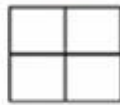
تحدي الرياضيات - الموسم الدراسي 2021-2022 - "الأسبوع رقم 24"  
تمارين التدريب - المستوى: الأول ابتدائي

1<sup>er</sup> Défi

التحدي الأول

ما هي الأعداد التي تخفيها الثعابين؟

1	2	3	4	5	6	7	8	9	
11	12		14	15	16	17	18	19	20
21	22	23	24	25	26		28	29	30
	32	33	34	35	36	37	38	39	40
41	42	43	44	45	46	47	48	49	50
51	52	53	54	55		57	58	59	60
	62	63	64	65	66	67	68	69	70
71	72	73	74	75		77	78	79	80
81	82	83	84	85	86	87	88	89	
91	92	93	94	95	96	97	98	99	100



2<sup>ème</sup> Défi

التحدي الثاني

اكتب الأعداد المناسبة .

$$\text{Spider} + \text{Spider} = 6$$

$$\text{Spider} + \text{Butterfly} = 8$$

$$\text{Bee} - \text{Butterfly} = 3$$

$$\text{Spider} + \text{Bee} = ?$$

$$\text{Spider} = \text{_____}$$

$$\text{Butterfly} = \text{_____}$$

$$\text{Bee} = \text{_____}$$

$$? = \text{_____}$$

