

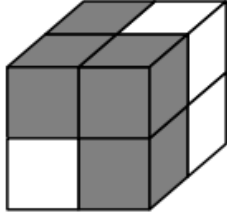


تحدي الرياضيات - الموسم الدراسي 2021-2022 - "الأسبوع رقم 15"  
تمارين التدريب - المستوى: الثالث ابتدائي

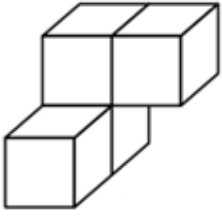
1<sup>er</sup> Défi

التحدي الأول

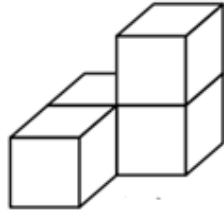
المكعب الكبير أسفله يتكون من مجموعتين (مجموعة مكعبات صغيرة رمادية كما تظهر في هذا المكعب و مجموعة مكعبات صغيرة بيضاء). كل مجموعة تتكون من 4 مكعبات صغيرة.



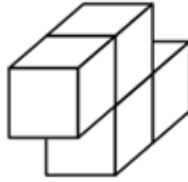
حدد مجموعة المكعبات البيضاء من بين المجموعات المقترحة.



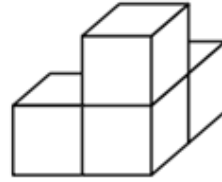
(هـ)



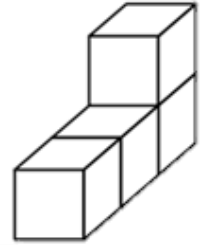
(د)



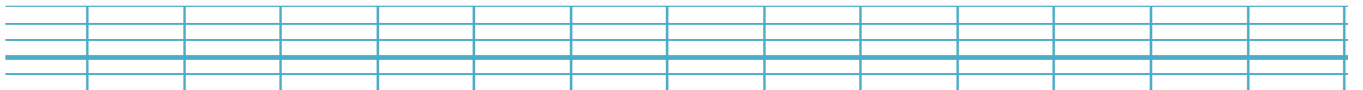
(ج)



(ب)



(أ)



2<sup>ème</sup> Défi

التحدي الثاني

La ruche des multiplications.

Aide l'abeille à trouver le chemin pour atteindre sa ruche en colorant les alvéoles indiquant les résultats présents dans la table de multiplication de 6.

