



Groupe Scolaire ESSALAM
d'enseignement privé
OUJDA

مجموعة السلام الدراسية
للتعليم الخصوصي
وجدة

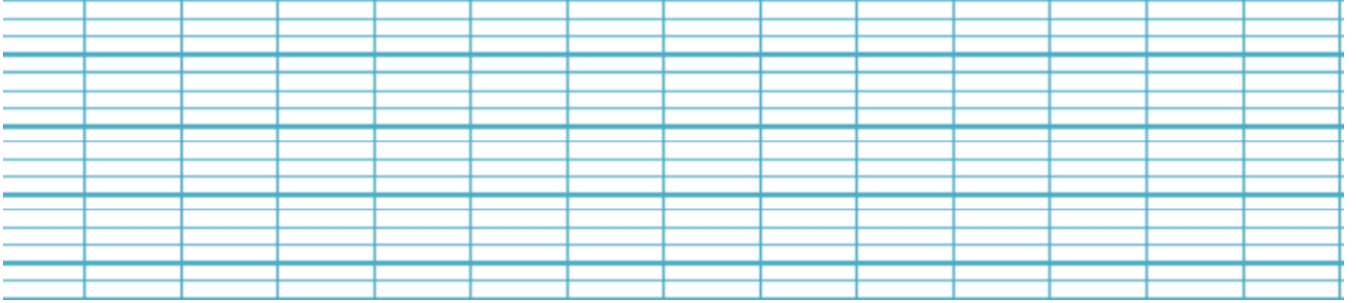



تحدي الرياضيات - الموسم الدراسي 2021-2022 - "الأسبوع رقم 12"
تمارين التدريب - المستوى: الخامس ابتدائي

1^{er} Défi

التحدي الأول

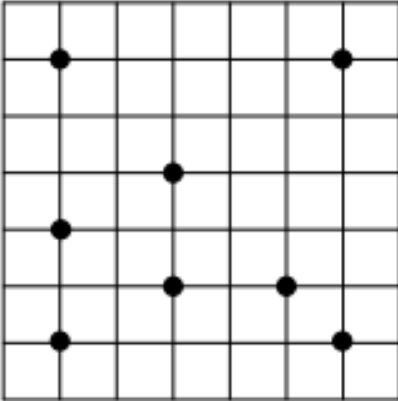
كم علبة بيض تحتاج السيدة فاطمة لتخزين بيضها، علما أن لديها 360 بيضة وكل علبة تكفي لتعبئة 30 بيضة؟



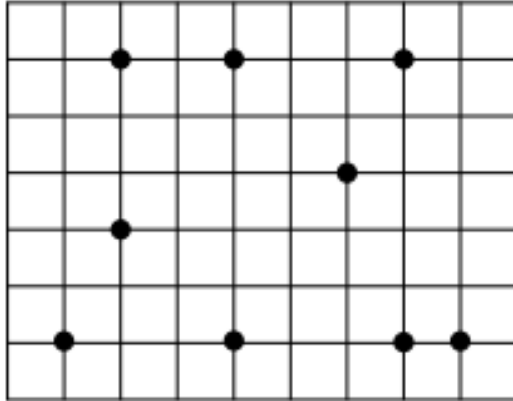
2^{ème} Défi

التحدي الثاني

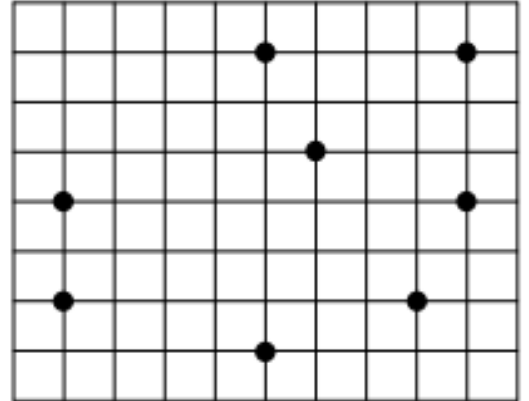
Relie quatre points pour obtenir les figures demandées :



un carré



un rectangle



un losange