



مجموع النقاط:

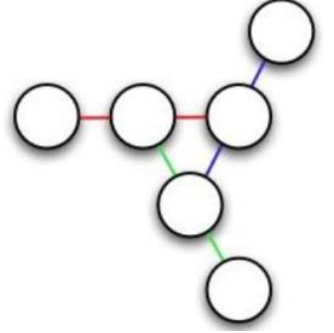
الجولة الثانية من تحدي الرياضيات - الموسم الدراسي 2021-2022
- المستوى: السادس ابتدائي

الاسم العائلي والشخصي:

ملاحظة: تحصلون على 4 نقاط في كل مرة تكون إجابتكم على التحدي صحيحة، وعلى 0 نقطة في حالة الإجابة الخاطئة

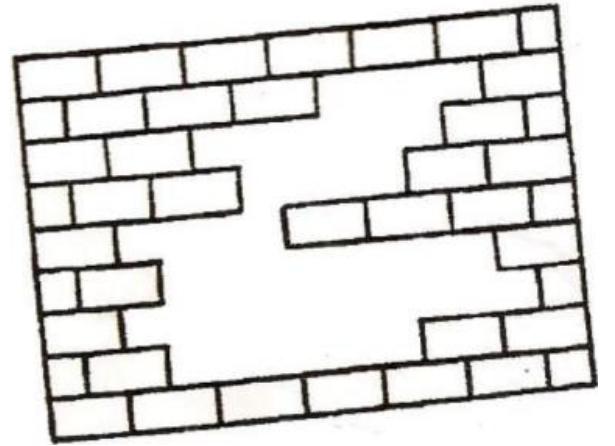
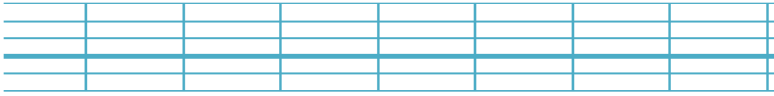
التحدي الأول

Placez les nombres de 1 à 6 une seule fois de sorte que la somme des nombres chaque ligne soit la même.



التحدي الثاني

Combien de briques manquent-il ?



التحدي الثالث

في هذا المربع السحري، وضعنا مرة واحدة فقط الأرقام من 1 إلى 25 بحيث يكون المجموع في كل صف وعمود 65. هناك بعض الأرقام مفقودة، يجب أن تجدها.

	11	24		
9			13	21
15		6		2
		12	25	8
22	10	18	1	

