

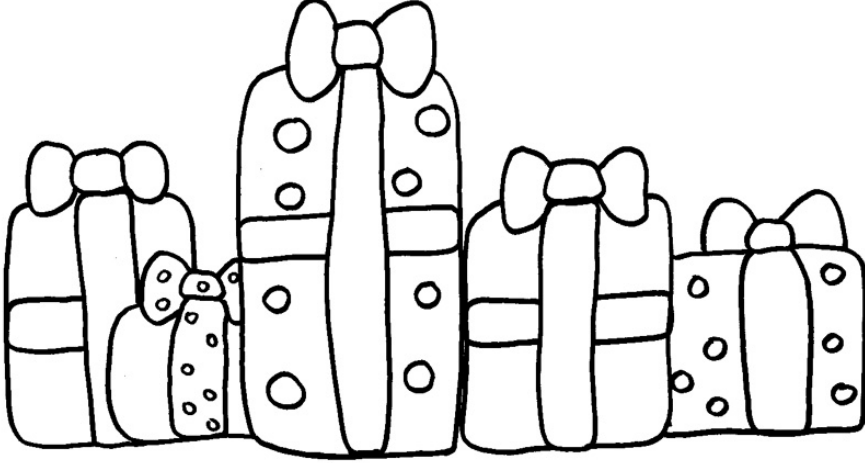


مجموع النقاط:

الاسم العائلي والشخصي:
الجملة الأولى من تحدي الرياضيات - الموسم الدراسي 2021-2022
- المستوى: الأول ابتدائي

ملاحظة: تحصلون على 4 نقاط في كل مرة تكون إجابتكم على التحدي صحيحة، وعلى 0 نقطة في حالة الإجابة الخاطئة

التحدي الأول



- أكبر الهدايا لونها أزرق.
- أصغر هدية لونها أحمر.
- الهدية عن اليمين خضراء.
- الهدية عن اليسار صفراء.
- الهدية المتبقية بنية

ما هو لون كل هدية ؟

التحدي الثاني



لكي يشارك المتسابقون في السباق يجب أن يملك كل متسابق دراجة .

هل لكل متسابق دراجة ؟


--	--	--	--	--	--	--	--	--	--	--	--	--	--	--	--	--	--	--	--

التحدي الثالث

تتابع قطط في سيرها كما يلي :

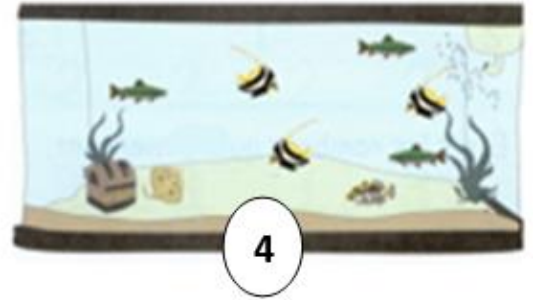

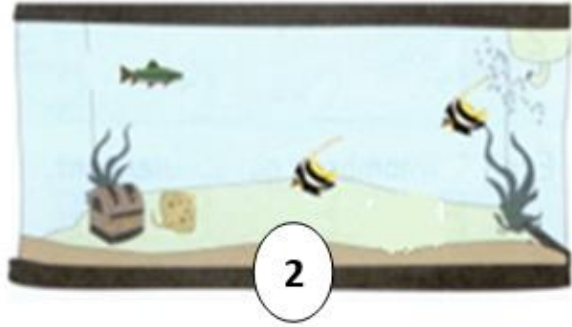



ضع علامة (X) في خانة القط الذي يخفيه المستطيل



التحدي الرابع

حدد الحوض الذي يحتوي على أكبر عدد من الأسماك.



التحدي الخامس

أوجد الأعداد المناسبة .

$$2 \text{ shells} + 2 \text{ shells} = 4$$

$$1 \text{ shell} = \begin{array}{|c|c|c|} \hline & & \\ \hline & & \\ \hline & & \\ \hline \end{array}$$

$$1 \text{ fish} + 2 \text{ shells} = 3$$

$$1 \text{ fish} = \begin{array}{|c|c|c|} \hline & & \\ \hline & & \\ \hline & & \\ \hline \end{array}$$

$$1 \text{ fish} + 3 \text{ fish} = 4$$

$$3 \text{ fish} = \begin{array}{|c|c|c|} \hline & & \\ \hline & & \\ \hline & & \\ \hline \end{array}$$

$$1 \text{ shell} + 3 \text{ fish} = ?$$

$$? = \begin{array}{|c|c|c|} \hline & & \\ \hline & & \\ \hline & & \\ \hline \end{array}$$