



Groupe Scolaire ESSALAM
d'enseignement privé
OUJDA

مجموعة السلام الدراسية
للتعليم الخصوصي
وجدة



تحدي الرياضيات - الموسم الدراسي 2020-2021 - "الأسبوع رقم 5"
تمارين التدريب - المستوى: الأول ابتدائي

1^{er} Défi

التحدي الأول

من بين الفئران التالية أوجد الفأر الذي:



A



B



C



D



E

لا يحمل قطعة جبن.

طرفاه الخلفيان على الأرض.

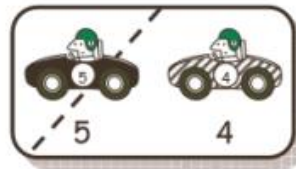





ليس له ذيل قصير.

الفأر هو:

2^{ème} Défi

التحدي الثاني

هذه صور مبعثرة لسيارات خلال السباق.



رتب هذه السيارات حسب وصولها إلى خط الوصول.