



تحدي الرياضيات - الموسم الدراسي 2020-2021 - "الأسبوع رقم 4"
تمارين التدريب - المستوى: الأول ابتدائي







1^{er} Défi

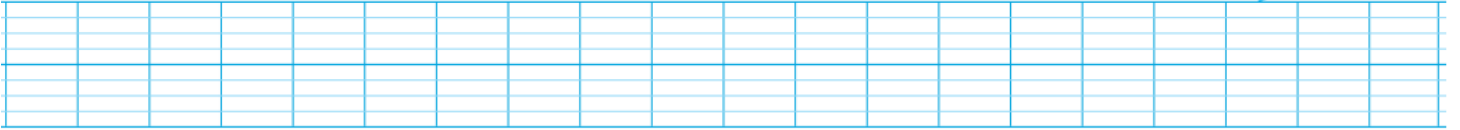
التحدي الأول

تتابع فئران في سيرها كما يلي :



حدد رقم الفأر الذي تخفيه علامة الاستفهام مستعينا بالجدول:

					
1	2	3	4	5	6



2^{ème} Défi

التحدي الثاني





وضع ياسين لائحة لحوض الأسماك :







❖ ضع علامة (x) تحت اللائحة المناسبة.

	2
	2
	2
	1



	3
	1
	2
	3



	1
	3
	3
	2



	3
	2
	3
	2

