



Groupe Scolaire ESSALAM
d'enseignement privé
OUJDA

مجموعة السلام الدراسية
للتعليم الخصوصي
وجدة



تحدي الرياضيات - الموسم الدراسي 2020-2021 - "الأسبوع رقم 13"
تمارين التدريب - المستوى: الأول ابتدائي

1^{er} Défi

التحدي الأول



لكل طفل شجرة مفضلة لديه.

- ريم لا تحب شجرة (أ).
- علي يفضل الشجرة الموجودة عن اليسار.



شجرة (ج)



شجرة (ب)



شجرة (أ)













حدد الشجرة المفضلة عند كل طفل.

--	--	--	--	--	--	--	--	--	--	--	--	--	--	--	--	--	--	--	--	--	--	--

2^{ème} Défi

التحدي الثاني

املأ البطاقات بما يناسب.

	+		=	12		=	<input type="text"/>
	+		=	11		=	<input type="text"/>
	+		=	13		=	<input type="text"/>
	+		+		=	?	<input type="text"/>