












تحدي الرياضيات - الموسم الدراسي 2019-2020 - "الأسبوع رقم 9"  
تمارين التدريب - المستوى: الخامس ابتدائي

1<sup>er</sup> Défi « Lundi »

التحدي الأول - تحدي الاثنين -


$$\begin{aligned} & \text{flamingo} + \text{flamingo} = 2 \\ & \text{cat} - \text{flamingo} = 1 \\ & 2 \times \text{cat} = \text{rabbit} \\ & \text{rabbit} + \text{cat} + \text{cat} - \text{flamingo} = \text{fox} \\ & \text{fox} + 3 = \text{fish} \\ & \text{fish} - \text{flamingo} = \text{penguin} \\ & \text{penguin} \div 3 = \text{seal} \\ & \text{seal} \times 2 = \text{bear} \\ & \text{seal} + \text{cat} = \text{elephant} \end{aligned}$$

	=	_____
	=	_____
	=	_____
	=	_____
	=	_____
	=	_____
	=	_____
	=	_____
	=	_____

حدد العدد الذي يمثله كل حيوان:

2ème Défi « Mercredi »

التحدي الثاني - تحدي الأربعاء -



احسب عدد المربعات في الشكل.

3ème Défi « Vendredi »

التحدي الثالث - تحدي الجمعة -

اقم الشكل علما ان كل خانة تساوي مجموع الخانتين اسفلها:

