




DEFI MATHEMATIQUES ANNEE 2019-2020 « SEMAINE N° 9 »  
Exercices d'Entrainement – Niveau : 1AC

1<sup>er</sup> Défi « Lundi »

التحدي الأول - تحدي الاثنين -

Voici six triangles formés avec des allumettes. Déplacer quatre allumettes pour ne plus voir que trois triangles.

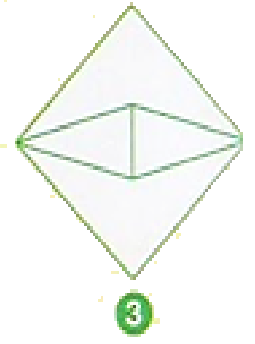
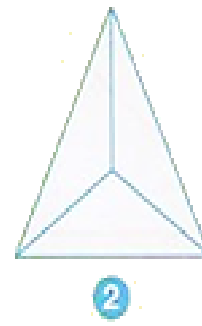
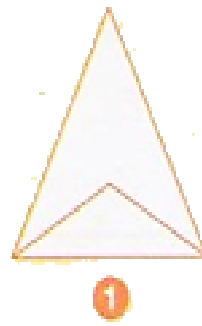


Attention ! ils n'auront pas tous les mêmes dimensions.

2ème Défi « Mercredi »

التحدي الثاني - تحدي الأربعاء -

Laquelle (lesquelles) de ces figures peut-on dessiner sans lever le crayon et sans repasser deux fois sur le même segment ?



3ème Défi « Vendredi »

التحدي الثالث - تحدي الجمعة -

Compléter ce carré magique de façon que les sommes des nombres écrits sur une même ligne, sur une même colonne ou sur une même diagonale soient égales.

-8		-1	
	-3	-2	0
	-5	2	-4
			1