



Groupe Scolaire ESSALAM
d'enseignement privé
OUJDA

مجموعة السلام الدراسية
للتعليم الخصوصي
وجدة




تحدي الرياضيات - الموسم الدراسي 2019-2020 - "الأسبوع رقم 7"
تمارين التدريب - المستوى: الأول ابتدائي

1^{er} Défi « Lundi »

التحدي الأول - تحدي الاثنين -

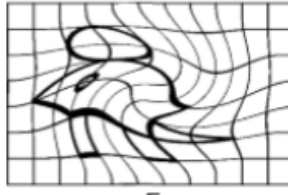
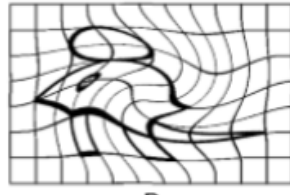
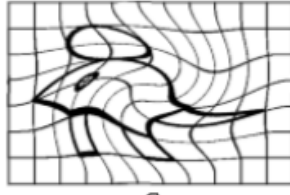
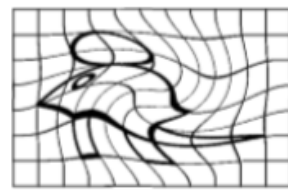
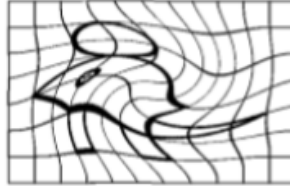
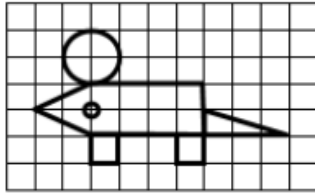
حدد الفاكهة الموجودة وراء الموز.




2^{ème} Défi « Mercredi »

التحدي الثاني - تحدي الأربعاء -

أرادت قطة مطاردة فأر لكنها لا ترى جيدا.



أوجد الصورة الملائمة للفأر.



3^{ème} Défi « Vendredi »

التحدي الثالث - تحدي الجمعة -

لون النجوم بالأخضر وبالأحمر بحيث تكون النجوم الحمراء أكثر ب 3 من النجوم الخضراء.

