

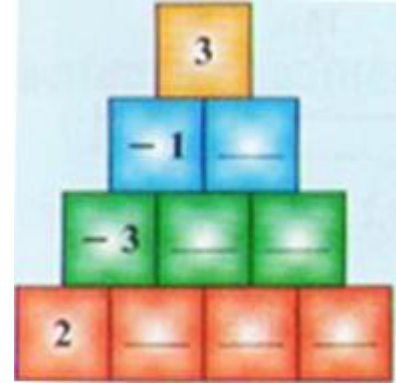


DEFI MATHEMATIQUES ANNEE 2019-2020 « SEMAINE N° 17 »  
Exercices d'Entrainement – Niveau : 1AC

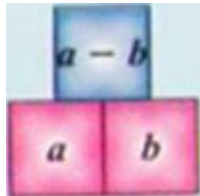
1<sup>er</sup> Défi « Lundi »

التحدي الأول - تحدي الاثنين -

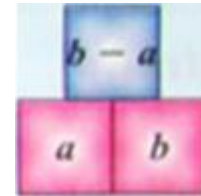
Recopier et compléter la pyramide ci-contre.



a- En suivant ce schéma de calcul :



b- En suivant ce schéma de calcul



2ème Défi « Mercredi »

التحدي الثاني - تحدي الأربعاء -

Recopier et compléter le carré magique ci-contre.

6	....	....	3
-5	0	1	....
-1	....	-3	....
....	5	....	-9

3ème Défi « Vendredi »

التحدي الثالث - تحدي الجمعة -

Antoine est arrivé à l'anniversaire de Bernard cinq minutes avant Cécile mais trois minutes après Denise. Après avoir dégusté le gâteau, les invités ont commencé à partir. Denise est partie la première, 2 minutes avant Cécile et 5 minutes avant Antoine. Combien de minutes de plus que Cécile Antoine est-il resté à cet anniversaire?

- A) 2 B) 4 C) 6 D) 8 E) Antoine est resté moins de temps que Cécile