




تحدي الرياضيات - الموسم الدراسي 2019-2020 - "الأسبوع رقم 11"  
تمارين التدريب - المستوى: الأول ابتدائي

1<sup>er</sup> Défi « Lundi »

التحدي الأول - تحدي الاثنين -

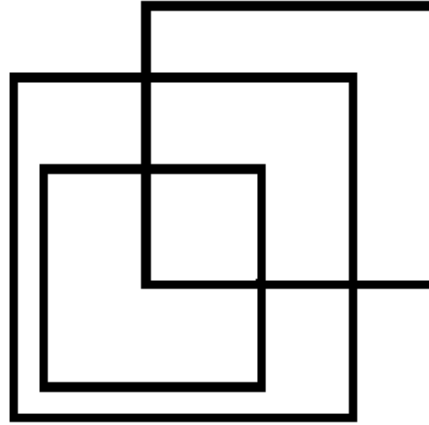


- أكبر الهدايا لونها أزرق.
- أصغر هدية لونها أحمر.
- الهدية عن اليمين خضراء.
- الهدية عن اليسار صفراء.
- الهدية المتبقية بنية.

ما هو لون كل هدية ؟

2ème Défi « Mercredi »

التحدي الثاني - تحدي الأربعاء -





كم عدد المربعات في الشكل التالي ؟



3ème Défi « Vendredi »

التحدي الثالث - تحدي الجمعة -



أوجد العدد الذي يمثله كل حيوان .